




*Excelencia educativa*



SRTA INES – ARTA FLAVIA  
SEGUNDO: MANZANO – CIRUELO




Colegio Sagrado Corazón Luz y Guía N° 8229

## PRÁCTICO DE REVISIÓN N°1

Segundo grado Ciruelo – Manzano  
ÁREA - Matemática

### PRESENTACIÓN:



¡Bienvenidos a este práctico para trabajar en casa! ¡Como siempre trabajan hermoso junto a la familia así que los felicitamos y debemos seguir!!!

### MUY IMPORTANTE

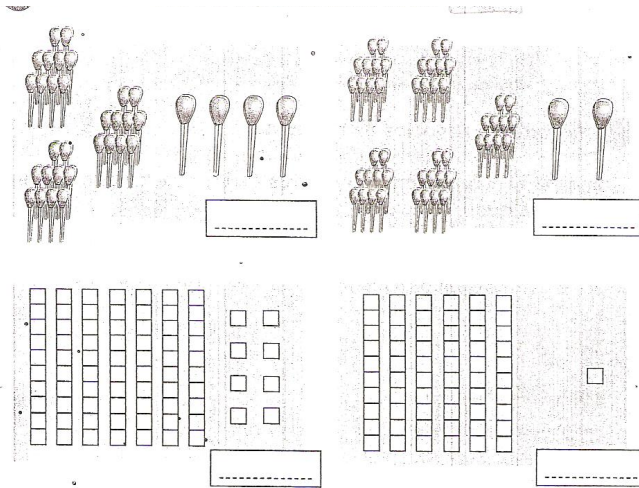
DEBES IR ELIGIENDO EL TEMA QUE MÁS TE GUSTÓ DEL ÁREA DE

CIENCIAS SOCIALES PARA EXPONERLO ORALMENTE.



## ACTIVIDAD 1

-Escribir los números representados en los recuadros.



-Escribir el nombre del número mayor del ejercicio anterior.

.....

\_ Completar la serie numérica en el siguiente cuadro.

100						107		
			114					
	121							
130				135				
			143					149
150		152						
					166			
		172					178	
				184				189
190								
200								

-Completar la serie de escalas.

De 2 en 2

114- \_\_\_\_\_ - \_\_\_\_\_ - \_\_\_\_\_ - \_\_\_\_\_ - \_\_\_\_\_ - \_\_\_\_\_ - \_\_\_\_\_

De 3 en 3

125- \_\_\_\_\_ - \_\_\_\_\_ - \_\_\_\_\_ - \_\_\_\_\_ - \_\_\_\_\_ - \_\_\_\_\_ - \_\_\_\_\_

De 5 en 5


150- \_\_\_\_\_ - \_\_\_\_\_ - \_\_\_\_\_ - \_\_\_\_\_ - \_\_\_\_\_ - \_\_\_\_\_ - \_\_\_\_\_

## ACTIVIDAD 2


-Trabajar en la siguiente ficha.

 Tacha los números mayores que 83.

123	204	37	58	90	82
75	184	211	69	4	20

 Tacha los números menores que 154.

25	236	155	153	183	254
47	36	145	68	46	200

 Ordena.

De menor a mayor


74 - 87 - 103 - 225 - 93

--	--	--	--	--

De mayor a menor

17 - 71 - 172 - 91 - 245

--	--	--	--	--

 Rodea así:

número mayor → azul

número menor → verde

6 - 15	28 - 14	39 - 37	28 - 82
--------	---------	---------	---------

-Colocar en la siguiente tabla el número anterior y el posterior.

número anterior		número posterior
	<b>115</b>	
	<b>120</b>	
	<b>125</b>	
	<b>130</b>	
	<b>135</b>	

-Descomponer estos números en unidades, decenas y centenas.

$$148 = 1c + 4d + 8u$$

$$153 = \underline{\hspace{2cm}}$$

$$194 = \underline{\hspace{2cm}}$$

-Escribir sobre la raya la cifra que falta.

	C	—	U
196	—	—	—
1—	—	4	7
—2—	1	—	8
135	—	—	—

### ACTIVIDAD 3

-Pensar y resolver.

1. Belén tiene 50 cromos y su amiga Gloria tiene 30. ¿Cuántos cromos tienen entre las dos?

Datos

Operaciones

Resultado

Entre los dos tienen  
..... cromos.



2. Entre dos amigos tienen 700 canicas. Si uno tiene 200, ¿cuántas canicas tiene el otro?

Datos

Operaciones

Resultado

El otro amigo  
tiene .....  
canicas.



3. Pedro tiene 20 rotuladores, Juan tiene 10 y Eva tiene 30. ¿Cuántos rotuladores tienen entre los tres?

Datos

Operaciones

Resultado

Entre los tres  
amigos tienen  
..... rotuladores.





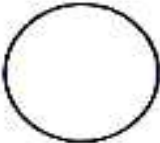
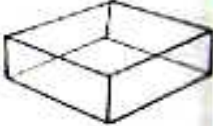
#### ACTIVIDAD 4



-Trabajar la siguiente ficha.

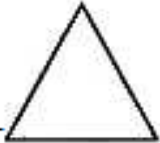

● **ESCRIBÍ CÓMO SE LLAMAN ESTOS CUERPOS Y ESTAS FIGURAS GEOMÉTRICAS.**

● **UNÍ LOS QUE TIENEN FORMAS PARECIDAS.**

\_\_\_\_\_  \_\_\_\_\_ 

\_\_\_\_\_  \_\_\_\_\_ 

\_\_\_\_\_  \_\_\_\_\_ 

\_\_\_\_\_  \_\_\_\_\_ 

● **DIBUJÁ:**

CUERPOS GEOMÉTRICOS	FIGURAS GEOMÉTRICAS



RECORDAR QUE DEBE IR ELIGIENDO EL TEMA  
QUE EXPONDRAS ORALMENTE DE CIENCIAS  
SOCIALES, EL QUE MÁS TE GUSTÓ O EL QUE  
ELIJAS . PROXIMAMENTE TE AVISO LA FECHA.  
HAS TERMINADO EL PRÁCTICO TE FELICITO!!!!!!



HASTA PRONTITO!!!!!!