

EL COLE EN
CASA

CUARTO
GRADO

MÓDULO 3

ÁREA CIENCIAS SOCIALES
SALTA. UBICACIÓN Y LÍMITES



PROFE JOSÉ.



Excelencia educativa



Colegio Sagrado Corazón Luz y Guía N° 8229

MÓDULO 3

CIENCIAS SOCIALES

CUARTO/MOLLE Y CEIBO

PRESENTACIÓN:



Hola. Bienvenidos a mi tercer módulo de Sociales.

Seguimos trabajando el concepto de mapa. Ahora vamos a ubicar nuestra provincia y reconocer sus límites. También vamos a tratar temas históricos, porque nuestra ciudad cumple 439 años el 16 de abril. ¡QUÉ LO CUMPLA FELIZ! ¡QUÉ LO CUMPLA FELIZ!

Una nueva palabra mágica nos ayudará a recordar los nombres de las provincias vecinas. A los países vecinos ya los conocen ...¿Hicieron los módulos anteriores?

Recuerden que las tareas deben ser compartidas en la página del colegio. Allí también pueden realizar consultas y comunicarse conmigo. Deben buscar lo siguiente:



FECHA DE PRESENTACIÓN DE LAS TAREAS: LUNES 20 DE ABRIL

RESUMIENDO

VAMOS A TRABAJAR:

ÁREA: SOCIALES

CONTENIDOS: GEOGRAFÍA: SALTA EN ARGENTINA

UBICACIÓN – LÍMITES


LOS PUNTOS CARDINALES EN UN MAPA

LA ROSA DE LOS VIENTOS

HISTORIA: LA INTEGRACIÓN DEL TERRITORIO PROVINCIAL

LA FUNDACIÓN DE SALTA

IMPORTANTÍSIMO: ESTE MÓDULO VIENE ACOMPAÑADO DE UN VIDEO. EN ÉL, REPASAMOS LOS DOS MÓDULOS ANTERIORES.



**PROVINCIA DE SALTA
UBICACIÓN Y LÍMITES**

**SALTA SE ENCUENTRA EN EL NOROESTE DE LA
REPÚBLICA ARGENTINA,**

PERO...

¿QUÉ ES EL NOROESTE? ¿DÓNDE QUEDA? ¿ES UN REINO? ¿QUEDA
MÁS ALLÁ DEL OESTE? ¿QUÉ TIENE QUE VER CON EL NORTE?

¡EL PAVO NABO NOS QUIERE AYUDAR!

CON UN GRÁFICO, TRATARÁ DE EXPLICAR LOS PUNTOS
CARDINALES EN UN MAPA

¡CON USTEDES EL PAVO NABO!

— HOLA CHICOS

—¡POR FIN ME DEJARON COLABORAR!



—LOS PUNTOS CARDINALES SON CUATRO, PERO NO SON CUATRO... ¡PERDÓN! TRATARÉ DE EXPLICAR LO QUE ACABO DE ESCRIBIR.

—LOS PRINCIPALES PUNTOS CARDINALES SON CUATRO 1,2,3, Y CUATRO ¡UY! ¡PERDÓN! CIERTO QUE UDS. NO VEN MIS DEDOS...¡ BUENO! ¡SON CUATRO!

NORTE-SUR-ESTE- OESTE

—EN LOS MAPAS TODOS LOS “MAPEROS” DEL UNIVERSO, LOS CIENTÍFICOS, LOS MAESTROS, LOS BUSCADORES DE TESOROS Y LOS BUSCADORES DE CIUDADES PERDIDAS, SABEN ESTO.

HABLANDO DE CIUDADES PERDIDAS (¿SABÍAN QUE HAY UNA CIUDAD PERDIDA EN AMÉRICA QUE MUCHOS SIGUEN BUSCANDO? ¿SABÍAN QUE SE LLAMA EL DORADO? ¿SABÍAN QUE HAY UNA CIUDAD PERDIDA EN SALTA? ¿SABÍAN QUE SE LLAMABA ESTECO? ¡UY!¡PERDÓN! REPETÍ MUCHAS VECES LA PALABRA SABÍAN, PERO...¿SABÍAN?)

— VOLVAMOS AL TEMA ¡ESTO ES MUY SIMPLE!

EN LOS MAPAS...



EL NORTE ESTÁ ARRIBA
EL SUR ESTÁ ABAJO
EL ESTE ESTÁ A LA DERECHA
/ derecha
EL OESTE ESTÁ A LA IZQUIERDA
izquierda /

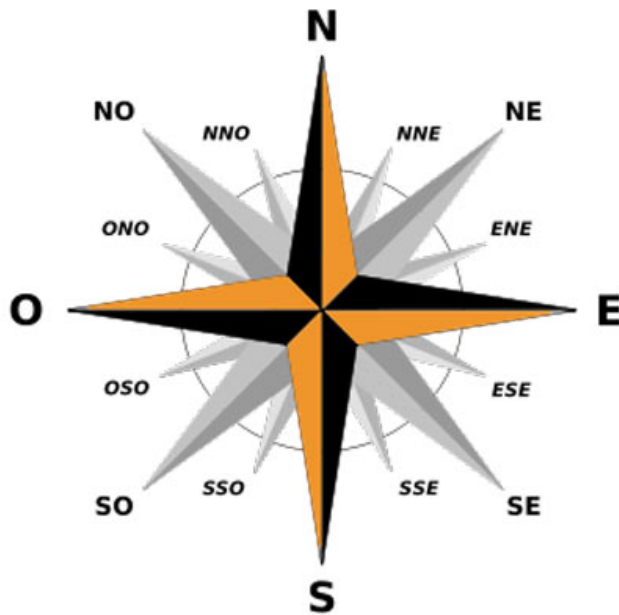
— ¡COMPARTO UN GRÁFICO!



LA ROSA DE LOS VIENTOS

—LES VOY A HABLAR DE LA ROSA DE LOS VIENTOS. BUENO, NO VOY A HABLAR, PORQUE ESTOY ESCRIBIENDO ¡JE,JE!

MUCHOS MAPAS LLEVAN DIBUJADA LA ROSA DE LOS VIENTOS.



—LES EXPLICO:

LA ROSA DE LOS VIENTOS ES UNA ESTRELLA. BUENO, NO ES UNA ESTRELLA: ES LA ROSA DE LOS VIENTOS, PERO SE PARECE A UNA ESTRELLA.

EN ELLA ESTÁN UBICADOS LOS PUNTOS CARDINALES TENIENDO EN CUENTA LO SIGUIENTE...

ENTRE EL NORTE Y EL OESTE HAY OTRO PUNTO CARDINAL QUE SE LLAMA

NOROESTE (NO)

ENTRE EL NORTE Y EL ESTE HAY OTRO PUNTO CARDINAL QUE SE LLAMA

NORESTE (NE)

ENTRE EL SUR Y EL OESTE HAY OTRO PUNTO CARDINAL QUE SE LLAMA

SUROESTE (SO)

ENTRE EL SUR Y EL ESTE HAY OTRO PUNTO CARDINAL QUE SE LLAMA

(NO SOY EGOÍSTA. DEJO QUE ESCRIBAN EL NOMBRE)

—PERO...¡ATENCIÓN! ¡CONCENTRACIÓN!

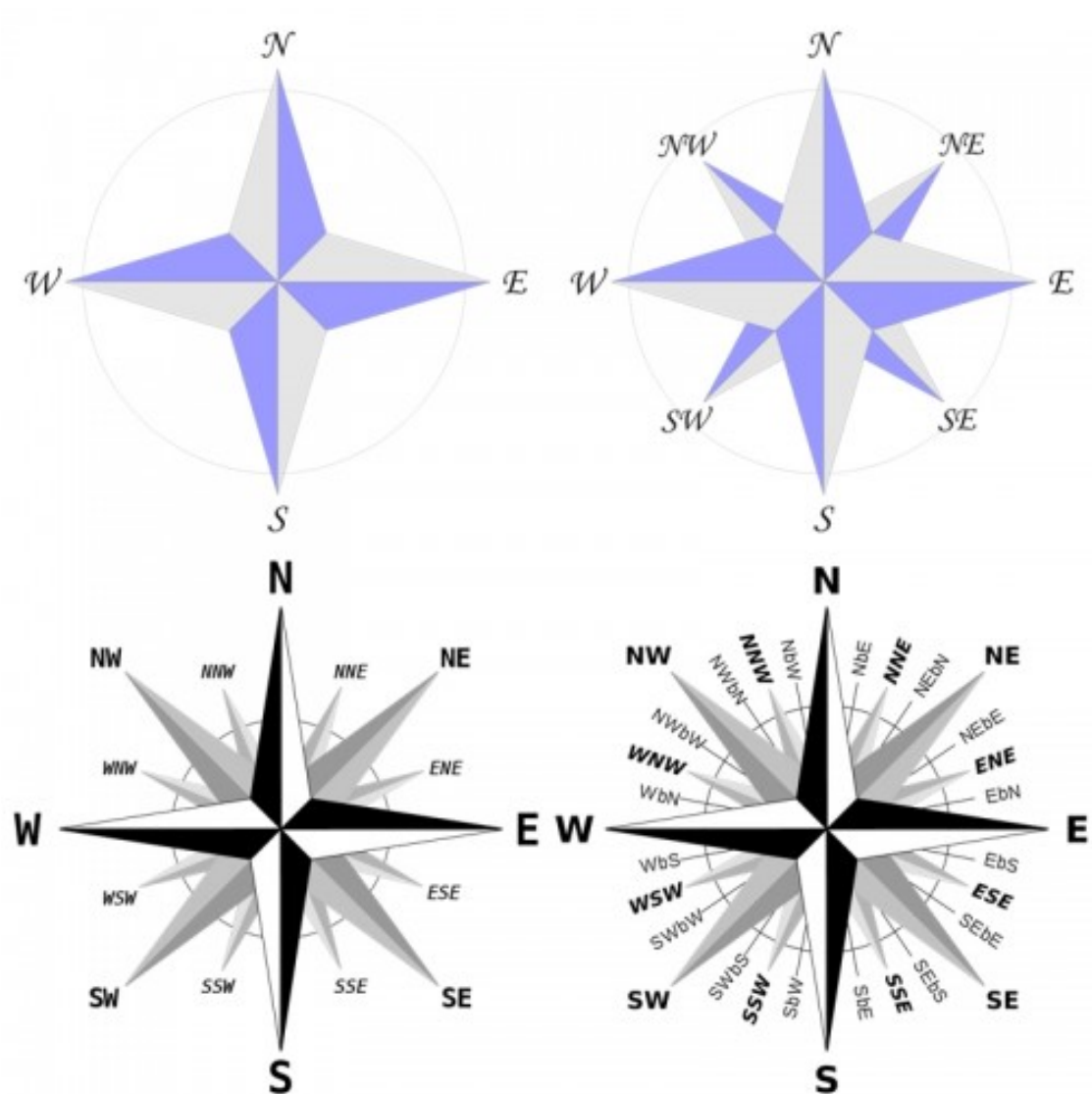
EL PROBLEMA SE PRESENTA CUANDO TENEMOS QUE UBICAR UN PUNTO ENTRE:

EL NORTE Y EL NOROESTE: ESE PUNTO SE LLAMA NORNOROESTE

ENTRE EL SUR Y SUROESTE EL PUNTO SE LLAMA: SURSUROESTE

¡ESTO ES UN LÍO!

- EN ESTAS ROSAS LA W ES EL OESTE (WEST- INGLÉS)



—ESTA ES MUY COMPLETA Y DIFÍCIL DE LEER



¡PERO NO NOS COMPLIQUEMOS TANTO!

RECUERDEN

NORTE: ARRIBA

SUR: ABAJO

ESTE: DERECHA

OESTE: IZQUIERDA

—¡REPASEMOS LOS CONTINENTES!

RECORDANDO LO QUE VIMOS EN LOS MÓDULOS ANTERIORES DE SOCIALES PODEMOS AFIRMAR QUE:
(LOS DESAFÍO A QUE ENCUENTREN EL ERROR)

- 1) EUROPA ESTÁ AL ESTE DE AMÉRICA
- 2) ÁFRICA ESTÁ AL SUR DE EUROPA
- 3) AMÉRICA ESTÁ AL OESTE DE EUROPA
- 4) CHILE ESTÁ AL OESTE DE ARGENTINA
- 5) URUGUAY ESTÁ AL NORTE DE ARGENTINA

—BUENO. ESPERO HABER SIDO CLARO.
VOLVERÉ...CUANDO ME DEJEN.

CHAU. HASTA PRONTO. NOS VEMOS ¡NO ME EXTRAÑEN!

—¡GRACIAS PAVITO!





UBICACIÓN Y LÍMITES DE SALTA



SALTA EN ARGENTINA.

UBICACIÓN:

Salta se ubica al Noroeste de la República Argentina.

Con 155. 488 km² es la sexta jurisdicción de primer orden más extensa, por detrás de la Provincia de Buenos Aires, Santa Cruz, Chubut, Río Negro y Córdoba.

LÍMITES:

Limita al norte con Jujuy, Bolivia y un trozo con Paraguay. Al este con Formosa y Chaco. Al sur con Santiago del Estero, Tucumán y Catamarca. Al oeste la Cordillera de Los Andes la separa de Chile.

Con 155. 488 km² es la sexta jurisdicción de primer orden más extensa, por detrás de la Provincia de Buenos Aires, Santa Cruz, Chubut, Río Negro y Córdoba.

LÍMITES DE SALTA

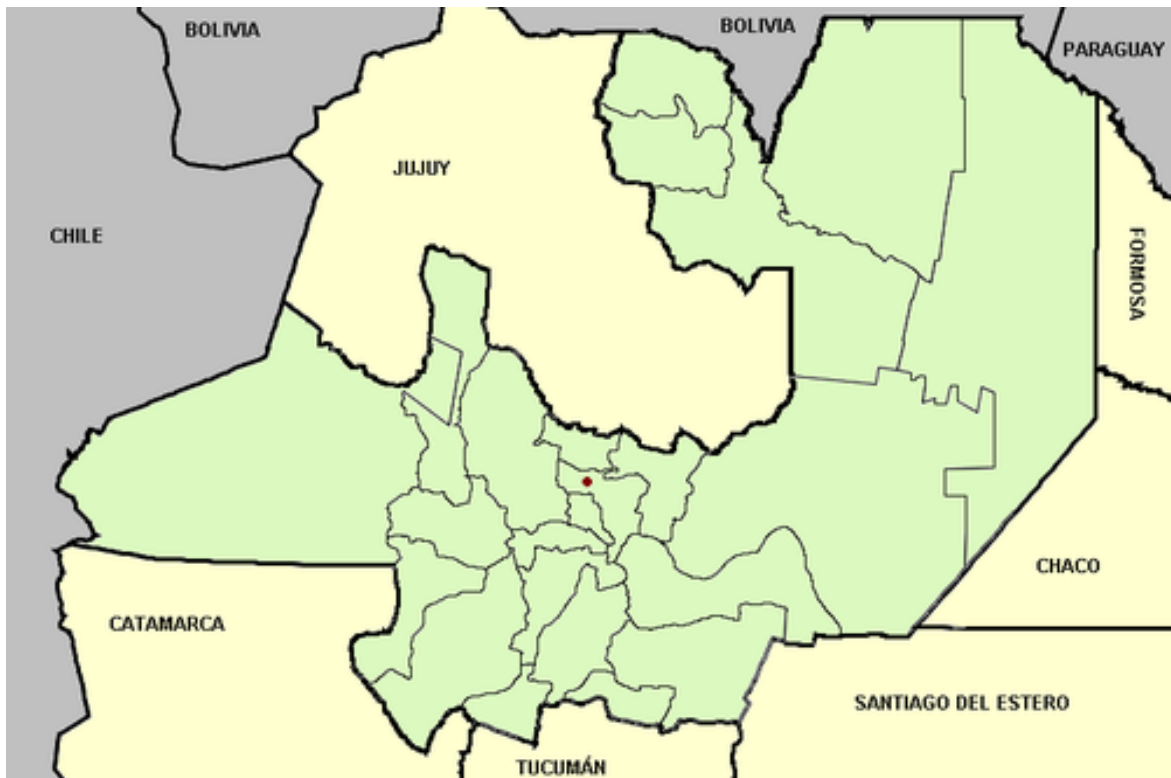
ESTE ES UN MAPA DONDE SE PUEDEN OBSERVAR LOS PAÍSES Y LAS PROVINCIAS QUE LIMITAN CON SALTA

MAPA (1)



ESTE ES OTRO MAPA DONDE SE PUEDEN OBSERVAR LOS PAÍSES Y LAS PROVINCIAS QUE RODEAN A SALTA.

MAPA (2)



TRANSCRIBIR

CARPETA DE SOCIALES

(FECHA RECOMENDADA JUEVES 16)

EN UN MAPA POLÍTICO DE ARGENTINA

FECHA: DÍA DE REALIZACIÓN DE LA TAREA

DEBER N°7

TÍTULO: SALTA EN ARGENTINA: LÍMITES

(NO COPIAR)

1) COPIAR EL MAPA (1) RESPETANDO LOS COLORES

IMPORTANTE: SOLO SALTA Y LAS PROVINCIAS Y PAÍSES QUE LA RODEAN.

2) ESTUDIAR



PALABRAS MÁGICAS Y LÍMITES

SEGUIMOS CON LAS PALABRAS MÁGICAS QUE NOS AYUDARÁN A RECORDAR LOS NOMBRES DE PAÍSES Y PROVINCIAS QUE LIMITAN CON SALTA

LAS PALABRAS MÁGICAS SON

PAÍSES

CHIBOPA

CHILE

BOLIVIA

PARAGUAY

PROVINCIAS

TUCAJUFORCHASAN

TUCUMÁN

CATAMARCA

JUJUY

FORMOSA CHACO

SANTIAGO DEL ESTERO



TRANSCRIBIR
CARPETA DE SOCIALES
FECHA: DIA DE REALIZACION DE LA TAREA

FECHA RECOMENDADA VIERNES 17

DEBER N° 8

TÍTULO: LÍMITES DE SALTA Y PALABRAS MÁGICAS

COPIAR RESPETANDO LOS COLORES Y ESTUDIAR

PAÍSES

CHIBOPA

CHILE

BOLIVIA

PARAGUAY

PROVINCIAS

TUCAJUFORCHASAN

TUCUMÁN

CATAMARCA

JUJUY

FORMOSA CHACO

SANTIAGO DEL ESTERO

NOMBRE

LÍNEA_-----



SALTA EN ARGENTINA

PARA QUE PUEDAN ESTUDIAR LA UBICACIÓN DE SALTA Y SUS LÍMITES, COMPARTO UN MAPA MUDO





UN POCO DE HISTORIA

¿Sabías lo siguiente?

La ciudad de Salta se fundó EL 16 DE ABRIL 1582 (cumple 439 años este jueves), casi 100 años después de la llegada de Colón a América (1492)

El territorio de Salta era mucho más grande. Incluía otras provincias y parte de Bolivia y Chile. Con el tiempo las provincias fueron determinando sus territorios y Salta se...achicó.

La forma de herradura que tiene actualmente se debe a que las autoridades de Orán decidieron no ser parte de Jujuy.

LA FUNDACIÓN DE LA CIUDAD DE SALTA

Don [Hernando de Lerma](#), siguiendo órdenes del [Virrey Francisco de Toledo](#), el 16 de abril de 1582 fundó la ciudad de Salta que, en un primer momento, se llamó *San Felipe de Lerma del Valle de Salta*. Por diversos motivos, su nombre fue abreviado a *San Felipe de Valle de Salta* y posteriormente a [Salta](#).

Salta debe su nombre, probablemente, a los aborígenes que habitaban la región (LOS SALTAS). También es posible que Salta se relacione con una palabra que usaban los primeros habitantes: SAGTA que significa HERMOSA.

IMÁGENES DE LA FUNDACIÓN DE SALTA



TUDO LO QUE VEN, SUCEDIÓ EN LA PLAZA 9 DE JULIO HACE
¡MUUUUUUUUUUUUUUUUUUUUCHOS AÑOS.

SALTA Y LOS VIRREINATOS

(VIRREINATO.Organización de las tierras impuesta por los españoles)

Salta formó parte del [Virreinato del Perú](#) hasta [1776](#), año en que la corona española creó el [Virreinato del Río de la Plata](#). El nuevo virreinato fue luego subdividido, y Salta quedó ubicada, en un principio, en la Gobernación [Intendencia de Salta del Tucumán](#) , junto con Catamarca, Santiago del Estero, Jujuy, Tucumán, Tarija y la Puna.

SALTA SE SEPARA DE TUCUMÁN Y DE TARIJA (BOLIVIA)

Muy poco tiempo después de la [Revolución de Mayo](#), la antigua [Intendencia de Salta del Tucumán](#) empezó a desintegrarse. El [8 de octubre de 1814](#), el Director Supremo (NO HABÍA PRESIDENTE TODAVÍA) [Gervasio Posadas](#) dividió la [Intendencia de Salta del Tucumán](#) en dos:

- La Provincia de Salta, al norte (la actual Provincia de Salta, más [Tarija](#) (hoy pertenece a Bolivia) [Jujuy](#) y la Puna.
- La Gobernación Intendencia del Tucumán, al sur (actuales provincias de [Tucumán](#), [Catamarca](#) y [Santiago del Estero](#))

El [26 de agosto de 1826](#), una revuelta popular (gente enojada) separó a [Tarija](#) no sólo de Salta sino de toda la Argentina,



Mapa de la Argentina, de mediados del **siglo XIX** donde aún aparecen Salta y **Jujuy** como una sola provincia.

SIGLO XIX (19) (SIGLO = 100 AÑOS -COMPRENDIDOS ENTRE 1800 Y 1900)

SALTA SE SEPARA DE JUJUY

El 22 de noviembre de 1834, **Jujuy** se separó de Salta y se transformó en una nueva provincia argentina. Pero la región de Orán se mantuvo unida a Salta. La unión de Orán con Salta explica la curiosa forma de herradura que tiene actualmente la provincia.



TRANSCRIBIR

CARPETA DE SOCIALES

FECHA RECOMENDADA LUNES 20

FECHA: DÍA DE REALIZACIÓN DE LA TAREA

DEBER N°9

TÍTULO: EL TERRITORIO DE NUESTRA PROVINCIA

CONSULTAR LOS DATOS HISTÓRICOS DEL MÓDULO DE SOCIALES E INDICAR SI LO SIGUIENTE ES VERDADERO O FALSO

- 1) LA FUNDACIÓN DE SALTA FUE EL 4 DE ABRIL DE 1492 _____
- 2) LA FUNDACIÓN DE SALTA FUE EL 16 DE ABRIL DE 1582 _____
- 3) SALTA PERTENECIÓ AL VIRREINATO DEL PERÚ _____
- 4) SALTA PERTENECIÓ AL VIRREINATO DEL RÍO DE LA PLATA _____
- 5) SALTA PERTENECIÓ AL VIRREINATO DE LA BATATA _____
- 6) EN ALGÚN MOMENTO SALTA JUJUY Y TUCUMÁN FORMABAN UNA SOLA PROVINCIA _____
- 7) SALTA SE SEPARÓ DE TUCUMÁN Y LUEGO DE JUJUY _____
- 8) SALTA SE SEPARÓ DE JUJUY Y LUEGO DE TUCUMÁN. _____



¡SE TERMINÓ ESTE MÓDULO!

RECUERDEN COMPARTIR FOTOS DE TODAS, TODAS, TODAS LAS TAREAS EN LA PÁGINA DE COLEGIO. POR AQUÍ TAMBIÉN SE PUEDEN COMUNICAR CONMIGO, CON LA PULGA Y CON EL PAVO NABO.



LOS DEJO PORQUE EL PAVO NABO SE PUSO A COCINAR ESCARBA DIENTES ¡INSISTE EN QUE SON FIDEOS CORTITOS!
¡NO LO PUEDO CONVENCER!

JOSÉ Y COMPAÑÍA

