



Excelencia educativa



SRTA INES – ARTA FLAVIA
SEGUNDO: MANZANO – CIRUELO






Colegio Sagrado Corazón Luz y Guía N° 8229

MÓDULO 6

Segundo grado Ciruelo – Manzano
ÁREA - Matemática

PRESENTACIÓN:



¡Bienvenidos a este nuevo módulo de trabajo en casa! ¡Como siempre trabajan hermoso junto a la familia así que los felicitamos y debemos seguir !!!



**RECORDAR QUE CADA ACTIVIDAD
CORRESPONDE AL TRABAJO DIARIO DE UDS**

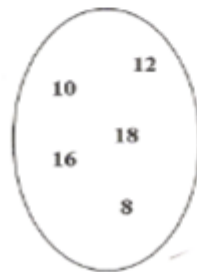
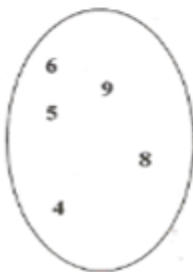
ACTIVIDAD 1

- Completar recordando cuándo se dice que es doble y mitad de un número.

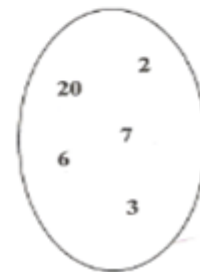
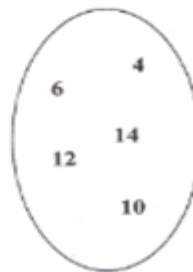
Mitad		Doble
		
		
		
		

Unir con flechas

Es la mitad de...



Es el doble de....



- Dibujar y colocar el doble

○ Escriban en estas tablas los resultados que ya obtuvieron y completen los datos que faltan.

Bicicletas	1	2	3	4	5	6	7	8	9	10
Ruedas										

Triciclos	1	2	3	4	5	6	7	8	9	10
Ruedas										

- Pegar tres objetos y escribir su doble.

ACTIVIDAD 2

RECORDAREMOS LOS PASOS A SEGUIR PARA LA INTERPRETACIÓN Y RESOLUCIÓN DE SITUACIONES PROBLEMÁTICAS.

-Leer el problema y resolver según el ejemplo.

Al quiosco de Juan llegó una bolsa con 245 globos azules y 189 globos rojos. ¿Cuántos globos hay en total en la bolsa?

■ **Lean con atención la siguiente forma de resolver un problema:**

INFORMACIÓN QUE NOS PERMITE SOLUCIONAR EL PROBLEMA	CÁLCULO QUE SE REALIZA CON LOS DATOS NUMÉRICOS.	RESPUESTA A LA PREGUNTA DEL PROBLEMA
DATOS	OPERACIÓN +	RESPUESTA =
globos azules _____ 245 globos rojos _____ 189	+ 245 189 ----- 434	Hay en total en la bolsa 434 globos.

- **Ahora subrayen con azul los datos y con rojo la pregunta del problema. Luego resuelvan el problema.**

Los chicos de primer grado compraron 153 globos y los de segundo grado 198 globos. ¿Cuántos globos compraron entre todos los chicos?

DATOS

OPERACIÓN

RESPUESTA

✓ Antonio repartió 180 globos entre los chicos de segundo grado, 86 entre los chicos de tercer grado y 159 entre los chicos de cuarto grado. ¿Cuántos globos repartió en total?

DATOS

OPERACIÓN +

RESPUESTA =

✓ A la semana siguiente, Antonio trajo tres bolsas de globos para repartir entre los chicos de segundo grado. Si en una bolsa hay 145 globos rojos, en otra bolsa, 168 globos azules y en otra, 179 globos amarillos, ¿cuántos globos rojos, azules y amarillos había en total?

DATOS

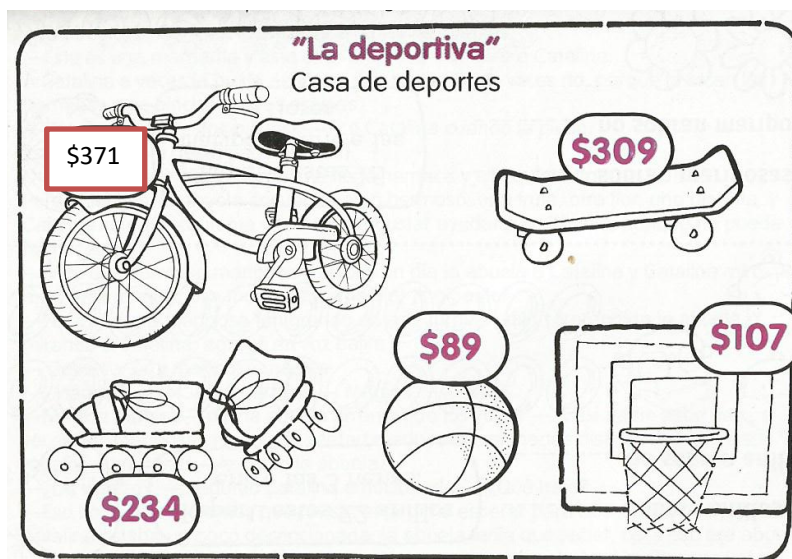
OPERACIÓN +

RESPUESTA =

ACTIVIDAD 3

-Para pensar y trabajar!

-Observar los precios de cada objeto y resolver haciendo las cuentas.



★ Si tengo 2 billetes de \$100 ¿me alcanza para comprar el aro de básquet y la pelota?

RESPUESTA

★ Con \$300 ¿me alcanza para comprar la patineta? ¿Cuánto me falta?

RESPUESTA:

SI TENGO EL DOBLE DE DINERO ¿QUÉ PUEDO COMPRAR?

-Leer, resolver y completar la resolución de la siguiente situación problemática subrayando datos.

A la panadería de Ramón le trajeron 123 tortillas y 166 tiras de pan. ¿Cuánto pan le dejaron?

Datos	Operación
Tortillas _____	_____
Tiras _____	_____
Total _____ ¿?	

Rta: _____

Averiguar ¿cuánto sería si le dejan el doble de tortillas y la mitad de pan?

OTRA VEZ HAZ LLEGADO AL FINAL DE OTRO MÓDULO, FELICITACIONES!!!!!!

CARIÑOS DE SEÑO INES Y SEÑO FLAVIA. GRACIASSSSSS!!!!!!!!!!!!!!